

DIAGNOS AUn1

Namn _____ Klass _____

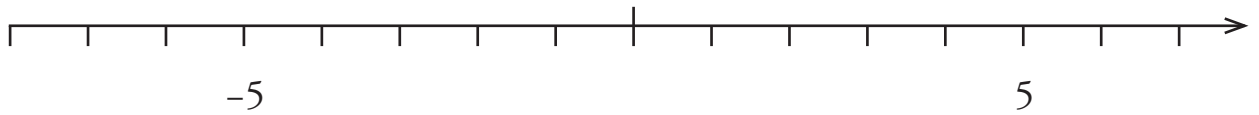
1 Skriv följande tal i storleksordning. Börja med det minsta.

a (-1) 4 0 (-12) (-6)
_____ _____ _____ _____ _____

b (-0,5) 1,2 0 (-2,1) (-0,1)
_____ _____ _____ _____ _____

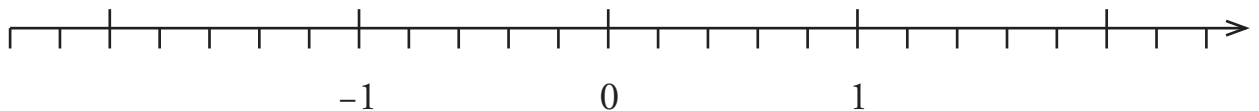
2 Placera följande tal på tallinjen.

a (-3) **b** 0 **c** (-1) **d** 4 **e** (-6)



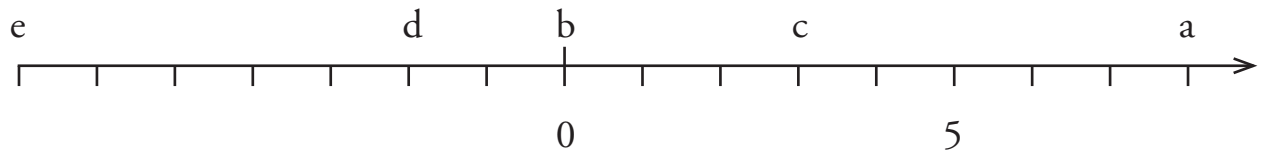
3 Placera följande tal på tallinjen.

a 0,1 **b** (-0,4) **c** 1,2 **d** (-0,9) **e** (-1,8)



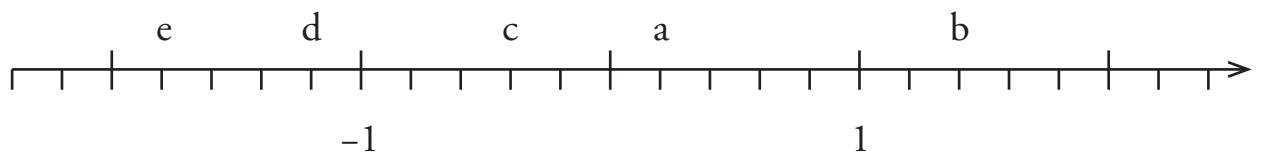
DIAGNOS AUn1

4 Vilka tal på tallinjen står bokstäverna för.



a ____ **b** ____ **c** ____ **d** ____ **e** ____

5 Vilka tal på tallinjen står bokstäverna för.



a ____ **b** ____ **c** ____ **d** ____ **e** ____